

1. Интернет-магазины активно используются людьми в повседневной жизни.

1. Как Вы думаете, почему при пользовании интернет–магазинами необходимо соблюдать специальные правила безопасного поведения?

2. Составьте рассказ о себе как об покупателе интернет–магазинов, ответив на следующие вопросы.

1) Как часто Вы заходите в интернет–магазины в течение недели? С какой целью Вы делаете это чаще всего?

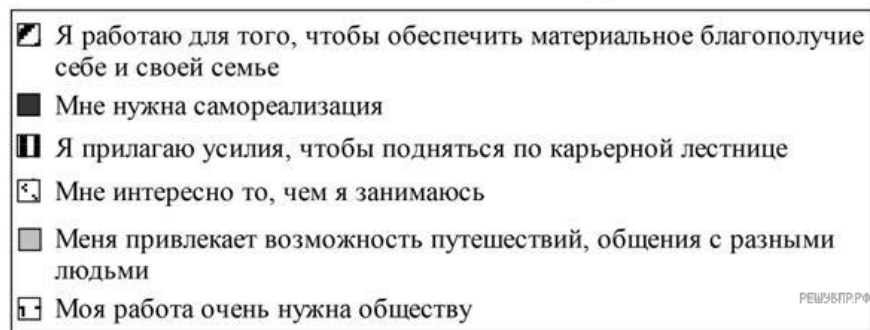
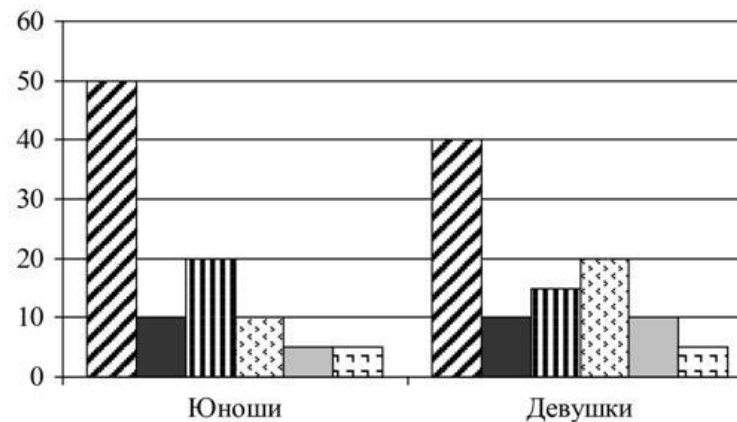
2) Как Вы относитесь к продаже б/у (бывших в употреблении) вещей через интернет площадки? Чего, по Вашему мнению, при этом не следует делать, чтобы избежать возможной опасности?

2. Выберите верные суждения о формах (областях) духовной культуры и запишите цифры, под которыми они указаны.

- 1) Мораль поддерживается силой государственного принуждения.
- 2) Наука призвана познать и объяснить устройство мира и законы его развития.
- 3) Религия объясняет события, явления окружающего мира с позиций существования сверхъестественного.
- 4) Искусство помогает привлечь внимание общества к социальным и нравственным проблемам.
- 5) Мораль отражает окружающую действительность в художественных образах.

3. Учёные опросили 23-летних работающих юношей и девушек страны Z. Им задавали вопрос: «Зачем Вы работаете, какова Ваша трудовая мотивация?».

Результаты опроса (в % от числа отвечавших) представлены в графическом виде.



Сформулируйте одно существенное различие в позициях групп опрошенных. Вы скажите предположение о том, чем объясняется это различие.

4. Установите соответствие между характеристиками и функциями образования: к каждой позиции, данной в первом столбце, подберите соответствующую позицию из второго столбца.

ХАРАКТЕРИСТИКИ

- А) формирование интеллектуального и нравственного потенциала общества и государства
- Б) воспроизводство профессиональных кадров
- В) развитие умений, способностей, интересов
- Г) освоение научных знаний, приобретение опыта и навыков
- Д) трансляция и распространение культуры в обществе

ФУНКЦИИ ОБРАЗОВАНИЯ

- 1) социальные
- 2) личные

Запишите в таблицу выбранные цифры под соответствующими буквами.

А	Б	В	Г	Д
<input type="text"/>	<input type="text"/>	<input type="text"/>	<input type="text"/>	<input type="text"/>

5. Найдите в приведённом ниже списке два отличительных признака финансовой пирамиды, запишите **цифры**, под которыми они указаны.

- 1) Денежные средства участникам выплачиваются из денежных средств, внесённых другими вкладчиками.
- 2) От участников требуют привлечь в организацию своих друзей и знакомых.
- 3) Организация имеет лицензию Банка России.
- 4) На сайте есть подробная информация о проектах и инвестициях организации.
- 5) Договор написан понятно, чётко, ясно.


6. Президенту Российской Федерации В. В. Путину принадлежит следующее высказывание: «Всем, кто открывает новое дело, регистрирует предприятия, нужно давать медаль за личное мужество».

- 1. Дайте своё объяснение смысла высказывания.
- 2. Как Вы думаете, почему развитие бизнеса важно для экономики страны и развития общества?

7. Екатерина Александровна получила SMS-сообщение от банка, клиентом которого она является, о переводе определенной суммы денег с её банковской карты на неизвестный ей счёт. Какое действие следует предпринять Екатерине Александровне в данном случае? Поясните свой ответ.

8. Чемпион России по шахматам среди юниоров Ростислав учится в 8 классе общеобразовательной школы. К какому уровню образования относится организация, в которой он обучается?

9. Рассмотрите три изображения.



Какой фактор производства может быть проиллюстрирован данными изображениями?

Объясните:

- а) что, кроме изображённых объектов, включает в себя данный фактор производства;
- б) чем ограничено предложение данного фактора производства (укажите не менее двух ограничителей).

10. Привлекая обществоведческие знания, составьте краткое (не более 5 предложений) сообщение об экономике фирмы, используя все приведённые ниже понятия.

Страхование, юридическое лицо, лицензия, имущественные интересы.